

**NIRMALA MATHA CENTRAL
SCHOOL, THRISSUR**

CLASS I

QUESTION BANK

TERM II

2022-23

English

Fill in the blanks

1. There is a pretty ___ in front of her house.
2. There are pink and red roses near the ___.
3. There is a big ___ tree behind the house.
4. There is a big apple tree ___ the house.
5. ___ lives near Julie's house.
6. Jatin lives near ___ house.
7. Jatin comes to play with Julie in the ___.
8. Julie's ___ tells the children to help her.
9. They ___ the apples and gently drop them on the ground.
10. The Apple is red and ___.
11. That apple is ___, so it is not ripe.
12. Julie puts the apples into the ___ baskets.
13. ___ the deer lives in a forest.
14. Debby sits ___ a tree.
15. A ___ is hiding behind the rock.
16. A wolf is hiding behind the ___.
17. A wolf is hiding ___ the rock.
18. Debby sees the ___ looking at Becky.
19. Debby sees the wolf looking at ___.
20. Debby has ___ new friends.
21. ___ picks up a kite and sets out.
22. Shiv picks up a ___ and sets out.
23. ___ picks up the strings for the kite.

24. Sam picks up the ____ for the kite.
25. Sam picks up the strings for the ____.
26. Sam and Shiv go to ____ house.
27. The ____ friends have fun.
28. The three ____ have fun.
29. ____ are the best days.
30. Holidays are the best ____.

Answers

- | | | |
|-------------|--------------|-------------|
| 1. garden | 2. gate | 3. apple |
| 4. behind | 5. Jatin | 6. Julie's |
| 7. evening | 8. mother | 9. pluck |
| 10. green | 11. green | 12. two |
| 13. Debby | 14. under | 15. wolf |
| 16. rock | 17. behind | 18. wolf |
| 19. Becky | 20. five | 21. Shiv |
| 22. kite | 23. Sam | 24. strings |
| 25. kite | 26. Mira's | 27. three |
| 28. friends | 29. holidays | 30. days |

മലയാളം

I. ശരിയായ പദമേൽ

1. ഗാനിജി - ഗാന്ധിജി
2. മന്താരം - മന്ദാരം
3. വഞ്ചി - വഞ്ജി
4. പക്കായം - പങ്കായം
5. നീന്ദൽ - നീന്തൽ
6. ബുദ്ദൻ - ബുദ്ധൻ
7. മദ്ദളം - മന്തളം
8. ചെമ്പരത്തി - ചെമ്പരത്തി
9. അഭിളി - അമ്പിളി
10. യുദ്ധം - യുധം
11. ഗുസ്തി - കുസ്തി
12. ഉത്ഥവം - ഉത്സവം
13. പന്ത് - പന്
14. വ്യക്ഷം - വ്രക്ഷം
15. ഞണ്ട് - ജണ്ട്

II. പൂരിപ്പിക്കുക

1. വ്യാ.....മം (യാ, ലാ)
2. മന്യു.....ൻ (ശൃ, ഷൃ)
3. ഗാന്ധി..... (ജി, ചി)
4. പൂ.....മാൻ (ളി, ഉളി)
5. ച..... (ക്ലം, ക്രം)
6. ഉ.....വം (സ്ത, ത്ത)
7. പ.....സാര (ജ്ഞ, ജ്ഞ)
8. പ.....യം (ക്കാ, ക്കാ)
9. അ.....ൻ (ന്ത, ന്ത)
10. വന്ദ..... (നം, തം)

11. മലയാ.....(ളം, ലം)
12. ഉദ്ദേ..... (ഴം, ശം)
13.സം (ഹം, കം)
14. മു.....ൽ (വ, യ)
15. ക.....ര (സെ, സേ)

III. യോജിപ്പിക്കുക.

1. നീന്തൽ - പാറ്റ
പുസ്തകം - അങ്കം
ഈച്ച - വ്യായാമം
യുദ്ധം - ചെണ്ട
മദ്യം - അക്ഷരം
2. വളളം - ചെമ്പരത്തി
ഗാന്ധിജി - ചെന്നായ്
മന്ദാരം - വഞ്ചി
ഞണ്ട് - ബുദ്ധൻ
സിംഹം - മത്സ്യം
3. കണ്ണ് - പശു
പങ്കായം - വൃക്ഷം
പൂച്ച - വഞ്ചി
പൈതൽ - ത്വക്ക്
മരം - ശിശു

IV. പദങ്ങൾ കണ്ടെത്തിയെഴുതുക.

1.	ന്ദാ	ല	മ	അ
	ത്വ്യം	മ്മ	യാ	ദു
	ളം	ക്ഷ	രം	ങ്കം

2.	ഹം	കാ	ച	ന്ത
	മു	ൽ	ട്ട	യ
	തീ	സം	ക്ക	റ്റ്

3.

പ	മ	ക്	ട്ടം
നു	ല്ല	ശു	ൻ
ശി	യ്യ	ഷ്യ	ന്ത്

V. വലയത്തിലാക്കുക

1. പക്ഷിവാർത്തയിൽപ്പെട്ടവയെ വലയത്തിലാക്കുക.

തത്ത, സിംഹം, ചക്രം, പ്രാവ്, ഹംസം, അണ്ണാൻ, കോഴി, ഈച്ച

2. കൂട്ടക്ഷരങ്ങൾ ചേർന്ന് വരുന്ന പദങ്ങൾ വലയത്തിലാക്കുക.

നല്ല മധുരം നിറഞ്ഞ കായ്കളുള്ള ഒരു മരത്തിൽ ഒരുപാട് മൃഗങ്ങൾ എന്നും വൈകുന്നേരം ഒത്തുകൂടി കഥകൾ പറഞ്ഞ് കളിച്ച് രസിച്ച് അവിടെ താമസിക്കും.

3. ജലവുമായി ബന്ധപ്പെട്ട പദങ്ങൾ വലയം ചെയ്യുക.

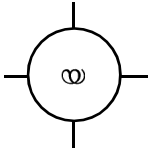
പല്ലക്ക്	പങ്കായം	വഞ്ചി	ചക്രം
കപ്പൽ	നീന്തൽ	ഗുസ്തി	ഞണ്ട്
പട്ടം	ചൊവ്വ	മത്സ്യം	

VI. കൂട്ടത്തിൽ ചേരാത്തത് ഏത്?

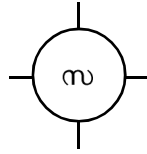
1. പശു, സിംഹം, ചെന്നായ്
2. ഹംസം, കോഴി, പാറ്റ
3. നീന്തൽ, ഗുസ്തി, തന്റേടം
4. പല്ലക്ക്, വള്ളം, വഞ്ചി
5. കോഴി, ഹംസം, വച്ചാൽ
6. അക്ഷരം, ത്വക്ക്, പുസ്തകം
7. ഉത്സവം, അങ്കം, യുദ്ധം
8. ഞണ്ട്, വഞ്ചി, മത്സ്യം
9. മന്ദാരം, ചൊവ്വ, ചെമ്പരത്തി
10. കപ്പൽ, വഞ്ചി, പട്ടം

VII. പദസൂത്ര്യൻ

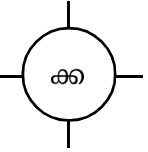
1.



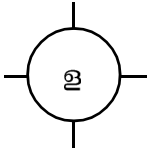
2.



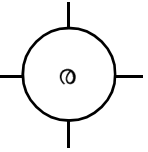
3.



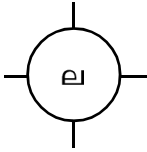
4.



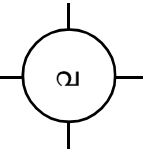
5.



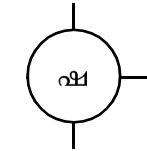
6.



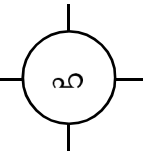
7.



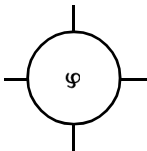
8.



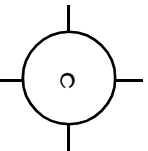
9.



10.



11.



ഉത്തരങ്ങൾ

I.1. ഗാന്ധിജി

4. പങ്കായം

7. മദ്യം

10. യുദ്ധം

13. പത്ത്

2. മന്ദാരം

5. നീന്തൽ

8. ചെമ്പരത്തി

11. ഗുസ്തി

14. വൃക്ഷം

3. വഞ്ചി

6. ബുദ്ധൻ

9. അമ്പിളി

12. ഉത്സവം

15. ഞണ്ട്

II.1. വ്യായാമം

4. പുളളിമാൻ

7. പഞ്ചസാര

10. വന്ദനം

13. ഹംസം

2. മനുഷ്യൻ

5. ചക്രം

8. പങ്കായം

11. മലയാളം

14. മുയൽ

3. ഗാന്ധിജി

6. ഉത്സവം

9. അന്ധൻ

12. ഉദ്ദേശം

15. കസേര

III.1. നീന്തൽ -

പുസ്തകം -

ഇച്ച -

യുദ്ധം -

മദ്യം -

2. വള്ളം -

ഗാന്ധിജി -

മന്ദാരം -

ഞണ്ട് -

സിംഹം -

3. കണ്ണ് -

പങ്കായം -

പൂച്ച -

പൈതൽ -

മരം -

വ്യായാമം

അക്ഷരം

പാറ്റ

അങ്കം

ചെണ്ട

വഞ്ചി

ബുദ്ധൻ

ചെമ്പരത്തി

മത്സ്യം

ചെന്നായ്

ത്വക്ക്

വഞ്ചി

പശു

ശിശു

വൃക്ഷം

IV. പദങ്ങൾ കണ്ടെത്തിയെഴുതുക.

1. അമ്മ, മദ്യം, അങ്കം, മത്സ്യം, മലയാളം, അക്ഷരം
2. കാറ്റ്, മുയൽ, മുട്ട, ഹംസം, നീന്തൽ
3. പട്ടം, മനുഷ്യൻ, പത്ത്, ശിശു, പയ്യൻ, പല്ലക്ക്

V.1. തത്ത, പ്രാവ്, ഹംസം, കോഴി

2. നല്ല മധുരം നിറഞ്ഞ കായ്കളുള്ള ഒരു മരത്തിൽ ഒരു പാട് മൃഗങ്ങൾ എന്നും വൈകുന്നേരം ഒത്തുകൂടി കഥകൾ പറഞ്ഞ് കളിച്ച് രസിച്ച് അവിടെ താമസിക്കും.
3. പങ്കായം, വഞ്ചി, കപ്പൽ, നീന്തൽ, ഞെട്, മത്സ്യം

VI.1. പശു

2. പാറ്റ

3. തന്റേടം

4. പല്ലക്ക്

5. വവ്വാൽ

6. ത്വക്ക്

7. ഉത്സവം

8. വഞ്ചി



9. ചൊവ്വ

10. പട്ടം

VII. പദസൂര്യൻ

1. മുയൽ, കയർ, യുദ്ധം, മലയാളം
2. പഞ്ചസാര, സിംഹം, കസേര, ഹംസം
3. പല്ലക്ക്, ത്വക്ക്, കാക്ക, ചക്ക
4. തവള, മലയാളം, മദ്യം, അമ്പിളി
5. വിരുന്ന്, വര, നര, കസേര
6. മാല, തല, വല, മല
7. പ്രാവ്, തവള, വല, ഉത്സവം
8. ഔഷധം, മഷി, മനുഷ്യൻ
9. ഹംസം, ആഹാരം, ഹിമം, സിംഹം
10. പുഴ, കോഴി, കഴുകൻ, വാഴ
11. പാറ, തറ, പറവ, പറ

Maths
Chapter 6
Adding Greater Numbers

1. $10 + 0 = \dots\dots\dots$
2. $10 + 7 = \dots\dots\dots$
3. $21 + 5 = \dots\dots\dots$
4. $73 + 6 = \dots\dots\dots$
5. sum of 70 and 10 is _____
6. Add 30 and 40
7. Which is correct addition
 - a) $72 + 25 = 95$
 - b) $57 + 20 = 77$
 - c) $63 + 36 = 98$
8. $60 + \text{---} = 68$
9. 8 tens 5 ones + 1 ten 2 ones = _____
10.  +  = _____

Chapter 7
Subtracting Greater Numbers




1. $20 - 20 = \dots\dots\dots$
2. $98 - 5 = \dots\dots\dots$
3. $60 - 8 = \dots\dots\dots$
4. $86 - 23 = \dots\dots\dots$
5. $78 - 30 = \dots\dots\dots$
6. $69 - 36 = \dots\dots\dots$
7. 3 tens 4 ones - 2 tens 2 ones =
8. Tick the correct answer.
 - a) $\clubsuit \clubsuit \clubsuit \clubsuit - \clubsuit \clubsuit = \clubsuit \clubsuit \clubsuit$
 - b) $\heartsuit \heartsuit \heartsuit \heartsuit \heartsuit \heartsuit - \heartsuit \heartsuit \heartsuit = \heartsuit$
 - c) $\spadesuit \spadesuit \spadesuit \spadesuit - \spadesuit = \spadesuit \spadesuit \spadesuit$

9. 8 tens 6 ones - 3 =
10. Use addition fact to subtract,
 - a) $5 + 9 = 14$
 - b) $10 + 6 = 16$

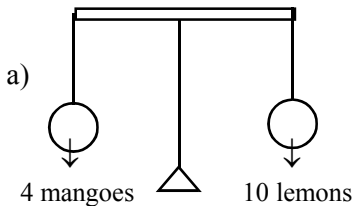
Chapter 8

Measurement

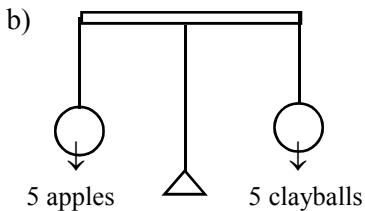
1. Write the non-standard measurements of length.
2. Tick the longer tree.



3. Write True or False.
 - a) My pencil box is heavier than my pencil.
 - b) The lighter objects goes down.
 - c) My bag is lighter than 2 chairs.
4. Fill in the box.

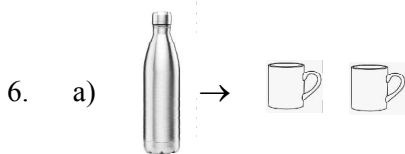
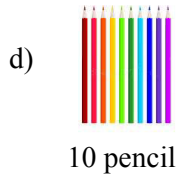


4 mangoes weigh as much as lemons.



5 apples weight as much as clayballs.

5. Write H for heavier or L for lighter.



A bottle can hold 2 mugs of water. Colour how many mugs are needed to fill these bottles?



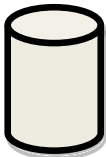










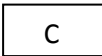








b) If each jug hold 4 mugs of water. Colour how many mugs will fill these jugs?





c) Which is the incorrect one to use when measuring length.




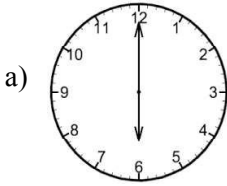
7. Which cylinder is the longest?
- a)  b)  c)  d) 
8. Which object is thinner than your water bottle?
- a)  b)  c)  d) both (a) and (c)
9. Which of the following thing is heavier than a ball?
- a)  b)  c)  d) 
10. Which is longest ?
-     
- a) C b) D c) B d) E
11. Which of the following can hold more milk?
- a)  b)  c)  d) 

Chapter 9

Time

1. Fill up
- a) The long hand of the clock is called
- b) We measure short activities using (hour hand/minute hand)
2. Draw the clock
- a) 3:00 b) 11:00
3. Draw the hands
- a)  4:00
- b)  12:00

4. Write the time in 2 ways.



5. is the first day of the week.
6. Write the names of the week.
7. Monday _____ Wednesday
8. Saturday Sunday _____
9. True or false
- a) Wednesday comes after monday.
 - b) Thursday comes before friday.
 - c) There are 5 day in a week.
 - d) The short hand of the clock is called hour hand.
10. It is _____ when we get up after night sleep.
- a) Morning
 - b) night
 - c) after noon
11. When there is darkness, it is _____
- a) noon
 - b) night
 - c) morning
12. The short hand of the clock shows _____
- a) hour
 - b) minute
 - c) second
13. 2 days after Monday is _____
- a) Tuesday
 - b) Wednesday
 - c) Thursday

Chapter 10

Money

1. Fill up

- a) Symbol for rupee is
- b) The side showing the value of the coin is
- c) 50 paise makes 1 rupee.
- d) 1 rupee = paise.

2. Count the money

a)  = _____

b)  = _____

c)  = _____

d)  = _____

e)  = _____

f)  = _____

3. How much for each

a) 

b) 



c)



4. Which of the following you can buy from _____ coin ?




a)



b)



c)



d)



5. Money is counted in terms of notes and _____

a) value

b) rupees

c) coins

d) paise

6. Identify the note given in the picture



a) it is a 20 rupee note

b) it is 50 Paise

c) it is a 50 rupee note

d) it is a 5 rupee note

7. Find the total value of the ring



8. Which of the given notes is of least (small) value ?

a)



b)



c)



d)



Answer Key

Chapter 6 - Adding Greater Numbers

- | | | |
|--------|-------|-------|
| 1. 10 | 2. 17 | 3. 26 |
| 4. 79 | 5. 80 | 6. 70 |
| 7. b | 8. 8 | 9. 97 |
| 10. 88 | | |





Chapter 7 - Subtracting Greater Numbers

- | | |
|------------------------------------|---------------------------|
| 1. 0 | 2. 93 |
| 3. 52 | 4. 63 |
| 5. 48 | 6. 33 |
| 7. 12 | 8. c) ♠ ♠ ♠ ♠ - ♠ = ♠ ♠ ♠ |
| 9. 83 | |
| 10. a) $14 - 9 = 5$, $14 - 5 = 9$ | |
| b) $16 - 10 = 6$, $16 - 6 = 10$ | |

Chapter 8 - Measurement

1. armspan, handspan, footspan, paces
2. a
3. a) True
b) False
c) True
4. a) 10 b) 5
5. a) Heavier b) lighter c) heavier d) lighter
6. a) 10 mugs b) 12 mugs c) b
7. c
8. d
9. c
10. b
11. c

Chapter 9 Time

1. a) Minute hand b) minutes
2. a)  b) 
3. a)  b) 
4. a) 6 o'clock, 6:00 b) 9 o'clock, 9:00
5. Monday
6. Monday, Tuesday, Wednesday, Thursday, Friday, Saturday, Sunday
7. Tuesday
8. Monday
9. a) False b) True c) False d) True
10. a 11. b 12. a 13. c

Chapter 10 - Money

1. a) ₹ b) Tails c) 2 d) 100
2. a) ₹8 b) ₹20 c) ₹17 d) ₹10
e) ₹25 f) ₹50
3. a) ₹20 b) ₹7 c) ₹20
4. a 5. c
6. c 7. 20 rupees 8. d

